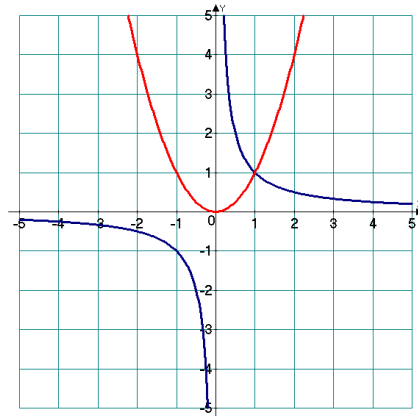
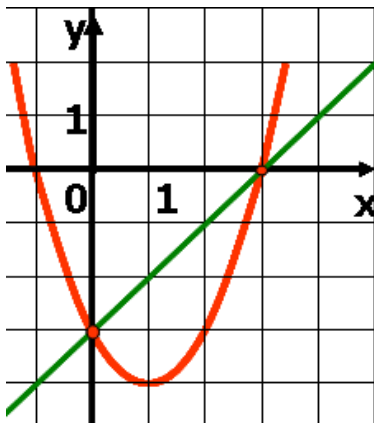


Самостоятельная работа 4.1 Графический метод решения систем уравнений Вариант 1

Ответьте на вопросы и выполните задания:

1. Графики каких функций изображены на рисунке?
2. Запишите координаты точек пересечения графиков этих функций.
3. Составьте систему уравнений по этому рисунку.
4. Запишите решение этой системы уравнений, используя рисунок.

а) б)

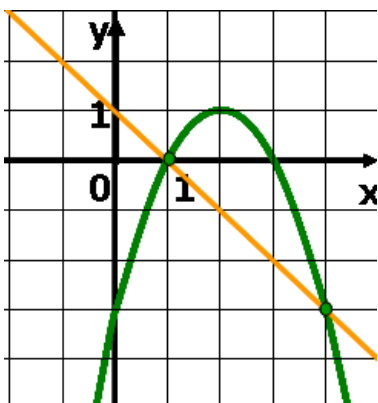


Самостоятельная работа 4.1 Графический метод решения систем уравнений Вариант 2

Ответьте на вопросы и выполните задания:

1. Графики каких функций изображены на рисунке?
2. Запишите координаты точек пересечения графиков этих функций.
3. Составьте систему уравнений по этому рисунку.
4. Запишите решение этой системы уравнений, используя рисунок.

а)



б)

