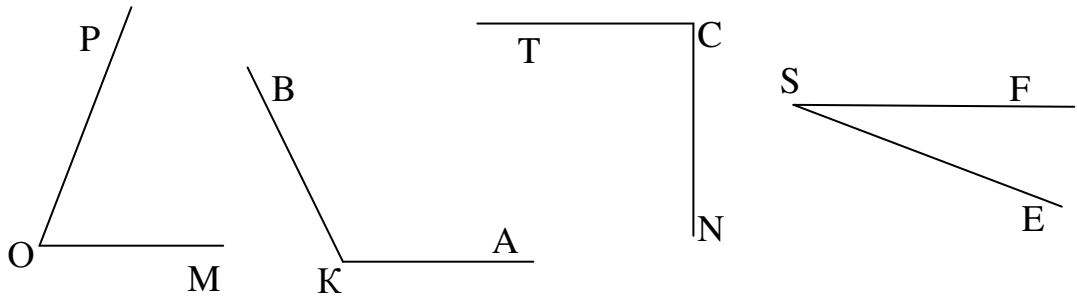
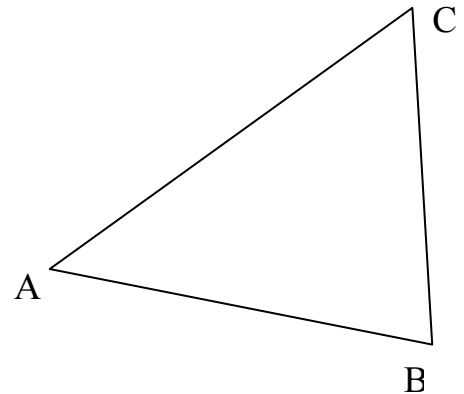


Самостоятельная работа 9.2
«Инструменты для вычислений и измерений»
Вариант 1

1. Измерьте углы, изображенные на рисунке и запишите результаты измерений.

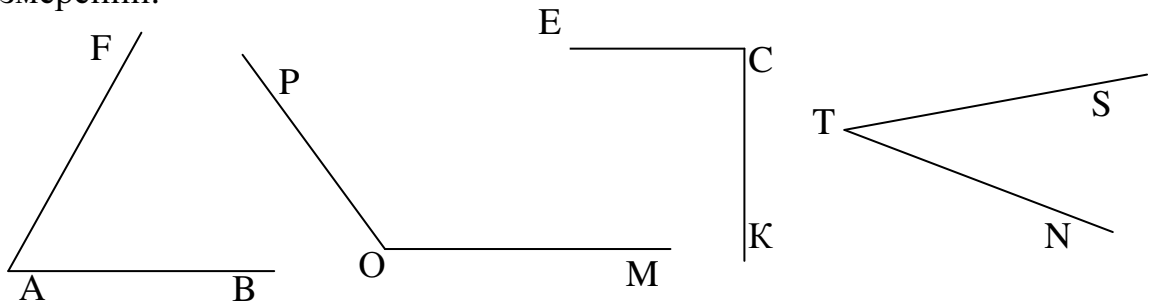


2. Измерьте каждый угол треугольника ABC, изображенного на рисунке. Найдите сумму градусных мер этих углов.
3. Измерьте длину каждой стороны треугольника ABC. Найдите периметр треугольника.



Самостоятельная работа 9.2
«Инструменты для вычислений и измерений»
Вариант 2

1. Измерьте углы, изображенные на рисунке и запишите результаты измерений.



2. Измерьте каждый угол треугольника ABC, изображенного на рисунке. Найдите сумму градусных мер этих углов.
3. Измерьте длину каждой стороны треугольника ABC. Найдите периметр треугольника.

